


Quader und Quadernetze


Wenn man einen Quader entlang der Kanten aufschneidet, dann entfaltet sich



_____.

Es gibt aber nicht nur ein Quadernetz, sondern _____ Quadernetze.

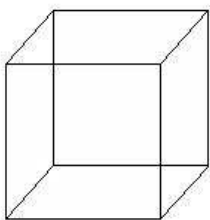
Im Quadernetz sind immer mindestens



im gefalteten Quader liegen sich diese gegenüber. Die Fläche, auf der der Quader liegt, heißt

_____.

Die Fläche, die am Quader oben liegt, also der Deckel des Quaders, heißt _____.



Ein Würfel ist ein _____.

Beide Körper haben _____ Ecken, _____ Flächen und _____ Kanten.

Beim Würfel sind _____ Seiten _____ und beim Quader immer _____.